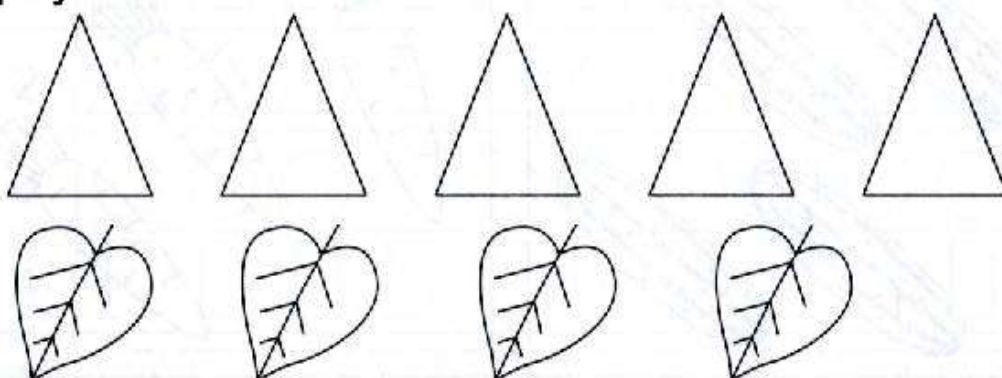
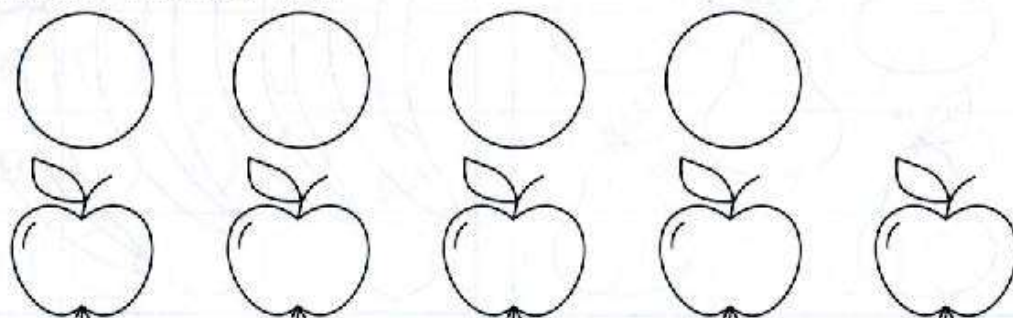


МАТЕМАТИКА

Предложите ребёнку раскрасить столько треугольников, сколько листочков в нижнем ряду. Чего больше, листочков или треугольников?

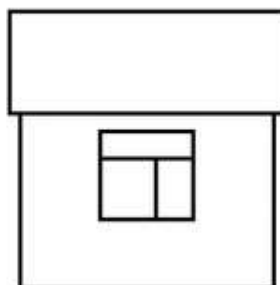
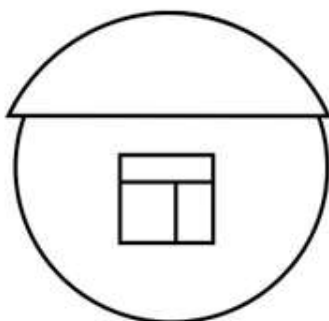







Предложите ребёнку раскрасить в нижнем ряду яблок столько же, сколько кружочков в верхнем. В каком ряду предметов больше, а в каком - меньше?



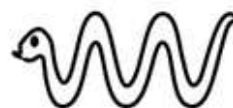


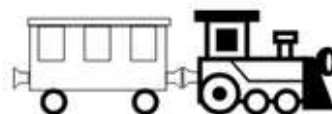
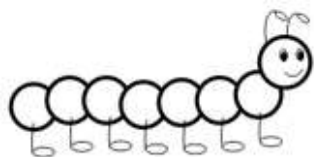
ВЕСЁЛАЯ МАТЕМАТИКА

Как ты думаешь, кто в каком домике живёт? Соедини фигуры и их домики разноцветными линиями.
Сосчитай сколько больших фигур и сколько маленьких.

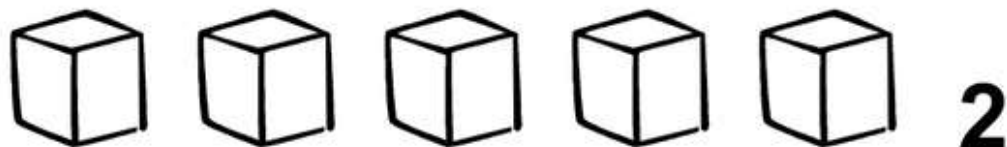


ВЕСЁЛАЯ МАТЕМАТИКА

Сравни предметы по длине. Раскрась длинные предметы карандашом оранжевого цвета. А короткие - карандашом зелёного цвета.




Раскрась столько предметов, сколько показывает цифра.



Задание № 1 от почтальона Печкина

Помочь почтальону разложить письма в почтовые ящики. Каждому игроку раздается лист с рисунком. Дети должны сосчитать точки на конверте и провести от него линию к почтовому ящику с такой же цифрой.



Задание № 2 от Лунтика.

Загадки о времени суток.

День закончен и опять

Нужно глазки закрывать.

Дети спят — и сын, и дочь.

К нам с небес спустилась... (Ночь)

Мамы деток разбудили.

Дети личики умыли.

Застелив свою кровать,

Будут в детский сад шагать.

Все ответят дружно,

Наступило?(Утро)

Солнышко уже давно,

Смотрит ласково в окно.

Поиграли, почитали и немножечко устали.

На прогулку мы идем.

Происходит это? (Днем)

Солнышко лучистое

Село за дома,

Мы пришли с прогулки

Ужинать пора..... (Вечер)



Проводится танец – игра с ускорением «Вперед 4 шага...»

<https://yandex.ru/video/preview/>

Вот мы и отдохнули. А теперь пора за работу.

Задание № 3 от кота Леопольда.

- На какую геометрическую фигуру похожи эти предметы?

Провести дорожку от

предмета к соответствующей фигуре.

**На какие геометрические фигуры похожи: солнце,
батон, стол, пирамидка, картина?**



Загадки о геометрических фигурах

1. Три вершины, три угла

Три сторонки

Кто же я (*треугольник*)

2. Не овал я и не круг,

Треугольнику я друг

Прямоугольнику я брат

А зовут меня (*квадрат*)

3. Вы подумайте, скажите

Только помнит вы должны

Стороны фигуры этой

Противоположные равны. (*прямоугольник*)

4. Катился круг, и вдруг упал

Бока себе чуть-чуть помял,

Фигуру эту я узнал

Был круг, а стал теперь (*овал*)

5. Нет углов у меня

и похож на блюдце я,

на тарелку и на крышку,

На кольцо, на колесо.

Кто же я такой, друзья? (*круг*)